

أولا الجغرافيا

اجب عن الاسئلة الآتية

السؤال الاول:

٢) أمامك خريطة صماء لقارة أستراليا اكتب ما تدل عليه الأرقام :



- ١) بحر
- ٢) جزيرة
- ٣) جبال
- ٤) إقليم مناخي

٣) تهتم دول العالم بالتعداد السكاني وهو إجراء دوري يتم كل خمس أو عشر سنوات.

في ضوء هذه العبارة وضح :

١) المشكلات المترتبة على زيادة عدد السكان في معظم دول آسيا .

٢) أثبت صحة العبارة :

توجد علاقة بين توزيع السكان والموارد الاقتصادية بالولايات المتحدة الأمريكية.

١) ماذا يحدث إذا : انخفضت نسبة فئة صغار السن في الدول النامية.

ج) ١) انسب الخصائص الجغرافية الآتية إلى الإقليم المناخي الذي تنتمي إليه :

١) يظهر في جميع القارات وتنمو به أشجار الزيتون.

٢) يتميز بصيف قصير وشتاء طويل شديد البرودة.

- ٢) ما المقصود بكل مما يأتي
- ١) الدول الجزرية
- ٢) الإقليم المناخي

السؤال الثاني :

١٦ ① اختر الإجابة الصحيحة مما بين القوسين لكل مما يأتي :

١ يجرى في جنوب أفريقيا نهرا

(مري ودارلنج - الاورنج واللمبويو - دجلة والفرات - النيجر والسفال)

٢ لتتركز السلالة الزنجية قرب دائرة الاستواء في قارة

(استراليا - اسيا - أفريقيا - أوروبا)

٣ أكبر دول قارة أمريكا الجنوبية سكاناً

(البرازيل - جويانا - الأرجنتين - فنزويلا)

٤ تعتبر المكسيك من الدول ذات الدخل الاقتصادي

(المنخفض - الأقل من المتوسط - فوق المتوسط - المرتفع)

٥ في أي القارات توجد الظاهرات الجغرافية الآتية :

١ سهل كلنشو . ٢ هضبة الزيتا . ٣ نهو لنسن .

ب) بم تفسر :

١ كثرة الموانئ الطبيعية بقارة أوروبا .

٢ تعرض عدد كبير من الزوج للهجرات الإجبارية .

٣ ارتفاع معدلات المواليد في قارة أفريقيا .

بقة الاسئلة بالخطف

«ثانياً التاريخ»

السؤال الثالث:

١) اكتب كلمة (صح) أمام العبارة الصحيحة وكلمة (خطأ) أمام العبارة الخاطئة مع تصويب الخطأ:

١] كانت الأرض ملك للدولة ولتم زراعتها عن طريق تكليف الفلاحين بحق الامتياز. (X)

٢] التقت القوات الفرنسية بقوات المايك بالقرب من ابيات في البحيرة فهزموها وقروا

هاربين جنوباً للدفاع عن القاهرة.

٣] أعاد الخديو اسماعيل النهضة العلمية والتعليمية للبلاد.

٤] المحاكم القنصلية كانت تنتظر في الجرائم التي يركبها الأجانب ضد المصريين. (X)

٥] اعتقل زعماء الثورة العربية والأعيان الذين ايدها جميعهم

ب) ماذا كان يحدث إذا لم:

١] يفتتح مصر طومبان باي في معركة الريدانية ١٥١٧ م.

٢] تفرض الدول الأوروبية معاهدة لندن ١٨٤٠ م على محمد علي.

ج) ما رأيك في ... !

سياسة الاقتراض التي اتبعها الخديو اسماعيل.

١) لماذا تنسب الأعمال الآتية:

١] قام بتطهير البحر الأحمر من القراصنة واهتم بالموانئ المصرية

٢] أصدر اللائحة السعيدية في أغسطس ١٨٥٨ م

٣] تحول عن مؤازرة وتأييد الحركة الوطنية وأيد الاحتلال

٤] زعيم سافر إلى باريس لعرض قضية استقلال مصر على مؤتمر الصلح

٢) إن سلاسل العبودية هي في الحقيقة قيود سواء كانت من ذهب أو حديد

في ضوء هذه العبارة وضح الآتي:

١] أسباب ثورة القاهرة الأولى

٢] أعط أمثلة على سياسة الخديو توفيق التي أدت إلى زيادة التدخل الأجنبي في شئون البلاد

٣] النتائج المترتبة على تصريح ٢٨ فبراير ١٩٢٢ م

٣) ما العلاقة بين:

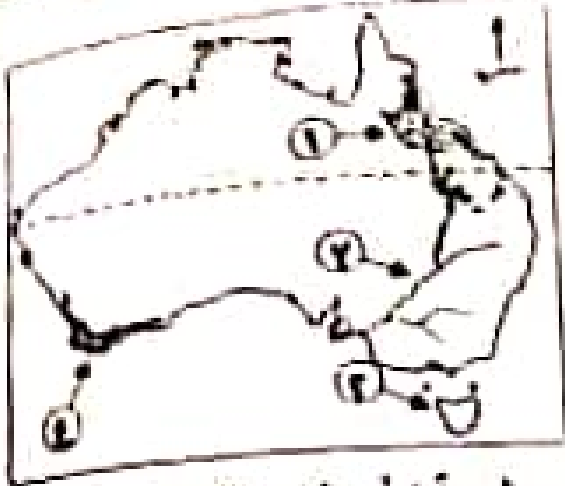
١] الحملة الفرنسية وتاريخ مصر القديم

٢] الزعامة الشعبية وتولية محمد علي الحكم

٣] مصر وبريطانيا بعد معاهدة ١٩٣٦ م

اللعنات الأسيلة مع اللعنات باللعنات

اجب عن الأسئلة الآتية في حراسة إجابتك



اولا الفهراسا: السؤال الاول (ا) امانك خريطة صماء
نظرة لسرنا انك متتل عنبة الارفام:-

- ١- جال
- ٢- جزيرة
- ٣- نهر
- ٤- إقليم ساحلي

(ب) اربط توزيع السكان في قلم بعوامل طبيعية وأخرى بشرية (في ضوء تلك العبارة وضع

- ١- أسباب تركز السكان في المناطق المرتفعة السطح في الدول المدارية بأفريقيا .
- ٢- ما العلاقة بين تقدم الدول ومعدل الزيادة الطبيعية ؟
- ٣- ما المقصود بالسلالة البشرية .

١- استنتج أسباب زيادة المواليد في أفريقيا .
(ج) اثبث ثلثة (صواب) امام العبارة الصحيحة وثلثة (خطا) امام العبارة الغير صحيحة
مع تصويب الخطا :

- ١- يتميز إقليم المناخ الإستوائي بالمطر طول العام .
- ٢- تمتد جبال الإنديز غرب أمريكا الشمالية .
- ٣- الصنوبر والشربين من أشجار الغابات المخروطية .
- ٤- تمثل السلالة المغولية نحو نصف سكان العالم من سكان العالم .

السؤال الثاني :- (ا) اختر الإجابة الصحيحة مما بين القوسين:-

١- تتساوى معدلات المواليد والوفيات في قارة
(آسيا - أمريكا الجنوبية - أفريقيا - أوروبا)

٢- نيوزلاندا من الجزر التابعة لقارة
(آسيا - أفريقيا - أوروبا - أستراليا)

٣- يتركز السكان في مناطق السهول الفيضية مثل سهل نهر..... في الصين
(اليانجسى - الجانج - السند - الفرات)

٤- الغابات النفضية ضمن إقليم مناخ .

(الإستوائي - غرب أوروبا - بحر المتوسط - شرق الصين)

(بقية الأسئلة في الصفحة المقابلة)

- ١ - أهمية قناة السويس ووسط أفريقيا بالنسبة لمصر .
- ٢ - ضيق السهول الساحلية في غرب قناة أمريكا الجنوبية
- ٣ - انتشار الموانئ الساحلية في قناة أوروبا

ثانياً التاريخ : السؤال الثالث :- (أ) اكتب ما نشر اليه كل عبارة مما يلقى :-

- ١ - معركة حربية تحولت مصر بعدها لولاية تابعة للدولة العثمانية .
 - ٢ - هوجها أصبح الفلاح المصري له الحق في توريث الأرض الزراعية .
 - ٣ - أول وزارة بريطانية تشكلت برئاسة سعد زغلول يناير ١٩٢٤
 - ٤ - طريق أكشف عام ١٨٩٨م فكان سبباً لتدهور الإقتصادى لدولة المماليك .
- (ب) ما النتائج المترتبة على ... :-
- ١ - صدور تصريح ٢٨ فبراير عام ١٩٢٢م .
 - ٢ - إصلاحات محمد على الاقتصادية في تشكيل وبناء القوى الاجتماعية في مصر .
- (ج) ايد بالأدلة التاريخية صحة العبارة التالية :
- ١ - إهتم الخديوى إسماعيل بالتعليم والنيضة العلمية في مصر .

السؤال الرابع : (أ) اشرح الأسباب الآتية :

- ١ - أعاد المراقبة الثابتة ورفض اللائحة الأساسية لمجلس النواب .
- ٢ - تمكن من هزيمة الصفويين في موقعة جالديران ١٥١٤م .
- ٣ - صمد بقواته أمام القوات البريطانية في التل الكبير إلى أن أستشهد .
- ٤ - دعا لإنشاء نقابات للعمال وإنشاء مدارس الشعب الليلية .

(ب) () لقد ترحمت الحملة الفرنسية أثر بعدة المدن في مصر (في ضوء تلك العبارة وضع

- ١ - آثار الحملة اقتصاديا واجتماعيا في مصر .
- ٢ - ما رأيك :-

في مقاومة وكفاح أهالي الصعيد ضد الحملة الفرنسية .

٢ - ماذا كان يحدث إذا :-

لم تُعقد معاهدة ١٩٣٦م بين مصر و بريطانيا .

(انتهت الأسئلة مع خالص الدعاء بالنجاح)

امتحان شهادة إتمام الدراسة بمرحلة التعليم الأساسي (الإعدادية العامة)

الفصل الدراسي الأول ٢٠١٨ / ٢٠١٩

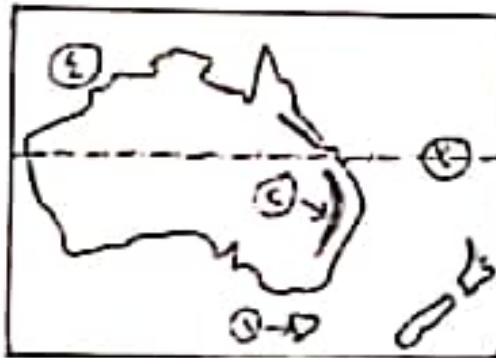
المادة : الدراسات الاجتماعية

الزمن : ساعتان

تنبيه مهم: أسئلة المادة في أربع صفحاتأولاً : الجغرافياًاجب عن الأسئلة الآتية:

السؤال الأول: | أ | امامك خريطة لأستراليا:

انقلها لكراسة الإجابة و أكتب ما تدل عليه الأرقام:



١- جزيرة

٢- جبال

٣- مدار

٤- المحيط

| ب | اختر الإجابة الصحيحة مما بين الأقواس:

من أهم أشجار إقليم البحر المتوسط

(الزان - البلوط - الزيتون - الصنوبر)

١- تتميز السلالة بالبشرة الداكنة و الأنف العريض و الشعر المجعد.

(القوقازية - الزنجية - الصفراء - المغولية)

٢- يصب نهر أورينوكو في

(المحيط الهادى - المحيط الأطلنطى - بحر الشمال - بحر قزوين)

٣- أطول أنهار أوربا نهر

(الراين - الفولجا - الدانوب - أوب)

بقية الأسئلة في الصفحة الثانية

ج | وضح مدى خطأ العبارتين الآتيتين :

١- الدول ذات الدخل الاقتصادي المرتفع تعتمد على التصنيع النامي و الأنشطة التقليدية.

٢- الإسكيمو و النحوس من أقسام السلالة القوقازية.

السؤال الثاني:

أ | بم تفسر :

١- للهيفل عند السكان في سيبيريا .

٢- يتركز السكان في استراليا على السواحل الشرقية.

٣- زيادة عدد كبار السن في الدول المتقدمة.

ب | قارن بين:

١- إقليم مناخ غرب أوروبا و الإقليم الإستوائي وشبه الإستوائي من حيث :

٢- الخصائص المناخية.

٣- الخصائص النباتية.

ج | ما المقصود بالمفاهيم الآتية :

١- قارة متجمدة غير مأهولة بالسكان .

٢- يعنى علم دراسة السكان ويدرس نمو وتوزيع وتركيب السكان .

٣- الدول التي تتكون من جزيرة أو أكثر .

ثانياً : التاريخالسؤال الثالث:

١ | اختر الإجابة الصحيحة مما بين الأقواس :

١- بعد معركة إملانة فر مراد بك إلى

(الشام - الصعيد - الحجاز - الإسكندرية)

٢- بدأ محمد علي بتجنيد

(المصريين - السودانيين - المماليك - العثمانيين)

٣- أرسلت بعثة كيف إلى مصر ١٨٧٥ م

(فرنسا - بريطانيا - ألمانيا - إيطاليا)

٤- تم إنشاء دار الكتب في عهد

(محمد علي - سعيد باشا - الخديوي إسماعيل - عباس الأول)

٥- أدت حادثة مقتل الحاكم العام للسودان السير لي ستاك لاستقالة وزارة

(سعد زغلول باشا - رياض باشا - نوبار باشا - شريف باشا)

ب | بم تفسر :

١- هزيمة الحوش المملوكية أمام الجيش العثماني ؟

٢- فشل نيلبون في الاستيلاء على عكا؟

٣- تولى حركة النهضة في عهد عباس باشا الأول؟

ج | ماذا يحدث إذا :

لم يتم اكتشاف حجر رشيد ١٧٩٩ م.

بقية الأسئلة في الصفحة الرابعة

لماذا

مسئلة الرابع:

ا | ا | عن تسب الاحتلال الاتية :

ا- تولي الحنة الفرنسية بعد مقتل كليو.

ب- تم تعط تصدير من القاهرة والإسكندرية

ج- تولي رئاسة الوزارة التي عرفت بوزارة الثورة في يوليو ١٨٨٩ م.

د- قاد الحركة الوطنية بعد وفاة مصطفى كمال.

هـ- تم معاهدة ١٩٣٦ م بين مصر وبريطانيا.

ب | ما النتائج التي لثرتة على :

ا- مولعة حشون ١٩١٤ م

ب- ثورة القاهرة الأولى أكتوبر ١٧٩٨ م.

ج- حملة فرور على مصر ١٨٠٧ م.

د | اكتب الملهود الذي نشو اليه الحركات الاتية :

ا- الاستلاء على ارض مصر بالقوة

ب- مسوع مصر الحق للاحتلال البريطاني

اجب عن الأسئلة الآتية ،
أولا الجغرافيا

السؤال الأول :

(١) امامك خريطة صماء للعالم



وضح مدلول الأرقام الموجودة عليها :

- ١- جبال
- ٢- نهر
- ٣- إقليم مناخي
- ٤- سلالة بشرية

(ب) اختر الإجابة الصحيحة من بين الأقواس :

- ١- جماعة التنجوس في سيبيريا تنتمي للسلالة
(المغولية - الزنجية - القوقازية - البيضاء)
- ٢- تقع قارة أفريقيا بأعلىها شرق
(البحر المتوسط - البحر الأحمر - المحيط الأطلنطي - المحيط الهندي)
- ٣- يقل عدد السكان في قارة أستراليا في (الداخل - الغرب - الشمال - كل ما سبق)
- ٤- تعتبر من الدول ذات مستوى اقتصادي أقل من متوسط (ألمانيا - الكونغو - المكسيك - هايتي)
- (ج) هارن بين كل من ، شمال اليابان وشمال أستراليا من حيث :
- ١- الإقليم المناخي الذي تنتمي إليه كل منهما . ٢- الخصائص المناخية لكل إقليم .

السؤال الثاني : (١) اكتب كلمة (صح) أو كلمة (خطأ) امام ما يناسب العبارات الآتية مع تصويب الخطأ :

- ١- جزيرة نيوزيلندا من أكثر مناطق العالم ازدحاما بالسكان . ()
- ٢- توجد في أمريكا الجنوبية أوسع سهول فيضية في العالم وهي سهول حوض نهر الأمزون . ()
- ٣- أوروبا من القارات التي يقل بها معدل الوفيات . ()
- ٤- هضبة جيانا أصغر هضاب قارة أمريكا الجنوبية مساحة . ()
- ٥- نسل نسبة المتعلمين في مصر إلى ٦٥ ٪ من جملة السكان . ()
- ٦- يقل السكان في المناطق المرتفعة السطح في الدول المدارية . ()

(ب) دلل على صحة العبارات الآتية :

- ١- تعدد منابع نهر النيل .
- ٢- للسلالة القوقازية أقسام مختلفة .
- ٣- تعدد خصائص السهول الفيضية في أمريكا الشمالية .

(ج) ما العلاقة بين كل من :

- ١- الوراثة الطبيعية ومعدل الوفيات . ٢- عدد الأطباء والرعاية الطبية في العالم .

ثانياً التاريخ

السؤال الثالث : (أ) اكتب كلمة (صح) أو كلمة (خطأ) أمام ما يناسب العبارات الآتية مع تصويب الخطأ :

- ١- كان أول لقاء للمعاليك بالحملة الفرنسية في مدينة الإسكندرية .
- ٢- تخلص محمد علي من الزعامة الشعبية بطردهم من البلاد .
- ٣- اهتم سعيد باشا بالترغ فقام بتطهير ترعة المحمودية لتفسي بحاجة الري .
- ٤- أسندت وزارتا الجهادية والبحرية إلى أحمد عرابي في عهد وزارة شريف باشا .
- ٥- تم إلغاء الامتيازات الأجنبية وفقاً لمؤتمر مونستر و ١٩٣٧ م .

(ب) بما تفسره :

- ١- تدهور الزراعة في مصر في العصر العثماني .
- ٢- مجيء بعثة كيبف إلى مصر ديسمبر ١٨٧٥ م .
- ٣- تولي محمد فريد رئاسة الحزب الوطني وقيادة الحركة الوطنية في ظروف صعبة .
- ٤- نظم محمد علي الاقتصاد المصري على أساس نظام الاحتكار .

(ج) هارن بين كل من :

- مطالب أحمد عرابي من الخديو توفيق ومطالب سعد زغلول من السير ونجت .

السؤال الرابع :

(أ) اختر الإجابة الصحيحة من بين الأقواس :

- ١- علو مكانة مصر دولياً كان من نتائج حروب محمد علي في (السودان - الجزيرة العربية - اليونان - الشام)
- ٢- من الطبقات الاجتماعية التي ظهرت في ظل نظام الاحتكار طبقة (علماء الأزهر - التجار - المعاليك - الأعيان)
- ٣- انتهت دولة المعاليك في مصر بعد معركة (جالديران - الريدانية - مرج دابق - ديو البحرية)
- ٤- اعترفت بريطانيا بمصر دولة مستقلة ذات سيادة بمقتضى

(لجنة ملنر - تصريح ٢٨ فبراير ١٩٢٢ م - معاهدة ١٩٣٦ م - حادثتي فبراير ١٩٤٢ م)

- ٥- رحل نابليون بونابرت سراً إلى فرنسا بعد معركة (أبي قير البحرية - أبي قير البرية - عكا - إمبابية)

(ب) ما النتائج المترتبة على :

- ١- حملات الخديو إسماعيل الحربية التي وجهها إلى الأقاليم الاستوائية .
- ٢- الانتقادات التي وجهتها الحركة الوطنية للوزارة المختلطة في عهد الخديو إسماعيل .
- ٣- هزيمة الجيوش الملوكية أمام العثمانيين .
- ٤- الحملة الفرنسية في مجال الصحة العامة .

(ج) ماذا حدث إذا :

- لم يتم عقد الاتفاق السوي بين إنجلترا وفرنسا عام ١٩٠٤ م

انتهت الأسئلة

مع العلم ان الامتحان بالمشي

نموذج اجابة امتحان شهادة تعلم الدراسة لمرحلة التنظيم الاساسي (عنه)

الفصل الدراسي الأول ١٠١٨ - ١٠١٩

الاول: كينيا

اجابة السؤال الاول (١٠ درجات)

(أ) اكتب كل بقعة نظرة لاسمها لكتب ما على اقله اربعة درجات

١ - جبل كينيا من ١١

١ - جبل كينيا من ١١

٢ - نهر تانا من ١١

٢ - نهر تانا من ١١

(ب) ادرجات لكل مفردة درجة

١ - بسبب احتكاك المناخ وارتفاع المسطح كما هو في لونغوا وكينيا من ٣١

٢ - العلاقة بين تقدم الدول و معدل الزيادة الطبيعية : نجد ان بلدان المتقدمة تملك معدلات المواليد و تملك التوابع و بالتالي تملك معدل الزيادة الطبيعية . من ٣٦

٣ - الملمود بالسلالة : مجموعة بشرية تتشابه في صلتها الجسمية الخارجية . من ٢٤

٤ - يرجع ارتفاع معدلات المواليد في فترة المراهقة في

• انتشار الامية في معظم دولها

• الاعتماد على الزراعة البعلية و الرعي

• انتشار بعض المعتقدات و التقاليد السلبية مثل الرغبة في تجنب اكل عدد من الالبان و

الزواج المبكر للذكور

من ٢٥ (بتعليقين)

(ج) اجابة لكتب كلمة (صواب) اسم العلة الصحيحة وكلمة (خطا) اسم العلة غير

الصحيحة مع تصويب الخطا : ادرجات لكل مفردة درجة

١ - صواب من ١٧ (درجة)

٢ - خطأ التصويب تنك غرب امريكا الجنوبية من ١٣ (نصف درجة للعلامة و نصف درجة

للتصويب)

٣ - صواب من ٦٠

٤ - خطأ التصويب البولندية من ٢٦ (نصف درجة للعلامة و نصف درجة للتصويب)

اجابة السؤال الثاني (١٠ درجات)

(أ) اجابة المختار الاجلة الصحيحة من بين الاطراف ادرجات لكل مفردة درجة

١ - امريكا من ٦

١ - اوروبا من ٢٦

٢ - غرب اوروبا من ١٩

٣ - اليابان من ٢٠

(ب) اجابة بم تفسر الدرجات لكل مفردة درجات

١ - لانه يوجد في وسط الكرة مضبة البحيرات الاستوائية و في الشرق مضبة الصحبة (

اثيوبيا) و ينبع منها روافد نهر النيل . من ١٠

٢ - بسبب اقتراب جبل الانديز من المحط الهادي من ١٤

٣ - بسبب كثرة تعاريف سواحلها و اتساعها ، من ١٢

السؤال الثالث (١٠ درجات)

(أ) اجابة المنب ما تشير اليه العبارة ٤ درجات لكل مفردة درجة

- ١. ابراهيم من ٢٢
- ٢. وزارة المنب من ٨١
- ٣. راس الرجاء الصالح من ١٢

(ب) اجابة اختراع المنزنية على ٤ درجات لكل مفردة درجتان

- ١. برسم على مصوبح ١٨ فبراير ١٩١١ م
 - اعن كمت لو ال نلسه متنا ظر مصر .
 - اعنت وزارة الخارجية المصرية
 - شكلت وزارة عبد الحلال ثروت بلاا لجنة من ثلاثين عضوا لاعلان المنصور الذي عرف بمنصور ١٩٢٢ م من ٨٤
- ٢. اصلاحات معد على الاقتصاد في تشكيل و بناء الفوي الاجتماعية في مصر
 - انهاء نفوذ المملوك ثهينة حثمة و حل محلها أسرة (محمد علي) و بعض العناصر التركية
 - تصول نفوذ علماء الأزهر و الهيئات الشعبية
 - ظهور طبقة الاعيان و طبقة عمل الصناعة
 - ظهور طبقة التجار و ظهور البدو كأوة اجتماعية مستقرة .

٥٩ (يكتفي بملكتين)
(ج) اجابة ابد بالاولى درجتان

- اهم الخديوي اساعيل بتنظيم و النهضة الطبية
 - اعلاء فتح بيون المدارس و التوسع في تشاء المدارس المطبلة
 - تشاء دار الكتب و دار الرصد بالمعلمية و مصلحة الامضاء و المساحة
 - تشاء الجمعية الجغرافية عام ١٨٢٥ م

من ٢٧

اجابة السؤال الرابع: (١٠ درجات)

(١) اجابة لمن تسب الاصل ٤ درجات لكل مفردة درجة

- ١. الخديوي توفيق من ٧٢
- ٢. سليم الاول من ٤٢
- ٣. محمد عهده من ٧٦
- ٤. محمد مراد من ٨٠

(ب) ٦ درجات لكل مفردة درجتان

- ١. اثر الحملة الصليبية و اجتماعها
 - في الزراعة تنوع المحاصيل الزراعية و الاهتمام بمشروع الري
 - في الصناعة تشاء مصنع لتسوج و بعض اصناعات الخبقة و النسيج و صناعة حروف لطباعة
 - في التجارة فتح اسواق لمصر في بلاد البحر الاحمر و نارفود في السودان و الحبشة و بلاد شمال افريقيا
 - في الفسحة تشاء المعالج العصبة في القاهرة و تحيد من المعدن الاخرى . من ٥٢
- ٢. اتبعوا حرب المناوشات و المعارك المنفرقة التي انتهت قوة الفرنسيين نظرا لطول الودام معادي في تعظم الشعور الوطني تجاه الاحتلال الفرنسي . من ٤٩
 - (متروك حرية الاجابة لتطلب في ضوء ما درس)
- ٣. اتا لم نعد معاهدة ١٩٣٦ م بين مصر و بريطانيا
 - لم ينتهي احتلال مصر عسكريا
 - لم تنضم مصر الي عضوية عصبة الامم باعتبارها دولة مستقلة ذات سيادة
 - لم يتم الفاه الامتيازات الاجنبية
 - لم يكن لمصر حرية عقد المعاهدات السياسية مع الدول الاجنبية
 - لم تتم تقوية الجيش المصري لكي يتمكن من الدفاع عن قناة السويس بمفرده
 - لم تتم عودة الجيش المصري الي السودان و اعتراف بريطانيا بالاترة المشتركة مع مصر للسودان . من ٨٥ ، من ٨٦ (يكتفي باجابتيه)

الإجابات المكتوبة من الأسئلة الموضوعية لن تُقدّر ويتم تقدير الإجابة الأول فقط

١٠- اخطروا السؤال الأول أ) اكتب خريطة سماه لتعلم لكتب ما تامل عنه الأرقام موضوعة عليها



- ١- المحيط ✓ - جبل.....
- ٢- إقليم مناخ
- ٣- مساحة الأثر انتشاراً
- ٤- ما المقصود بالمخاضم القطبية الآتية -
- ٥- الدول العزبية. ✓ - لتركيب العمري.
- ٦- الأقاليم المناخي

١١- تكتب فكرة القطبية الجنوبية عن بالي فارت العلم .

١٢- يحدد لمظهر بعضي سطح كرة أفريقيا .

١٣- مركز السكان في منطقة البحيرات العظمى بأمريكا الشمالية .

١٤- اشرح الفرق بين كل من - إقليم مناخ غرب أوروبا وإقليم مناخ المعتدل البارد شرق القارات

من حيث : (١) الموقع في أمريكا الشمالية . (٢) الخصائص النباتية .

سؤال الخامس : اذكر الإجابة الصحيحة مما بين القوسين .

- ١- تعرف جبل الأناب بلسم الجوليس في شمال (فرنسا - إسبانيا - ألمانيا - إيطاليا)
- ٢- أكبر هضبة أمريكا الجنوبية وأكثرها ارتفاعاً هضبة (البرازيل - بنجلاديش - جيتا - سورينام)
- ٣- من الدول ذات الرعاية الصحية المرتفعة (الولايات المتحدة - روسيا - الأردن - نيجر)
- ٤- تعرف هضبة بسلف العلم . (لندن - جنوب أفريقيا - الحبة - اثبت)

سؤال السادس : اشرح صحة العبارات الآتية -

١- توجد في الدول العربية بقارة أفريقيا سلطنة بلبريتان .

٢- تصل نسبة التعليم في مصر إلى ٦٥ % .

٣- صوب ما تقفه خط مع نقل العبارة قائمة -

٤- يوجد الإسكيمو في صحاري تنديرا في أمريكا الشمالية شمال الولايات المتحدة .

٥- يتركز سكان استراليا على السواحل الغربية حيث المدن الكبرى .

٦- تتميز سواحل كرة أوروبا بالاستقامة .

ثانياً الرابع - السؤال الثالث

1. أكتب كلاً من صواب أمام العبارة الصحيحة وخطأ أمام العبارة الخاطئة مع التصويب
() - جاءت الحملة الفرنسية إلى مصر لتعويض ما فقته من مستعمرات في الهند.
- () - تضمنت المذكرة المشتركة لثقة إسماعيل البارودي وعزالي عن مصر .
- () - كانت ثورة الشعب المصري مارس ١٨٠٤ م مكسباً سياسياً لمحمد علي .
- () - قامت وزارة محمد محمود بإلغاء دستور ١٩٢٣ وإعلان دستور ١٩٣٠ م .
- ب - أيد بالأدلة التاريخية صحة العبارات الآتية -
1. أخضع محمد علي التجارة المصرية لنظم الاحتكار .
2. ارتفعت ملكة مصر القومية بسبب حروب اليونان .
- ج - ما النتائج المترتبة على
1. تمكن السلطان سليم الأول من هزيمة العثمانيين في جند برون .
2. تفضية العرش بشار ١٨٠٠ .
- د - ماذا يحدث إذا
1. لم يلزم الحكم العثماني العزلة على مصر .
2. نجح شعب المصري في عدم قبول تصريح ٢٨ لبرابر ١٩٢٢ م .

السؤال الرابع ، أ) من نصيب الأعمال الآتية -

1. إنشاء المطبعة الأميرية في بولاق .
2. إنشاء الخط الحديدي بين القاهرة والسويس .
3. قوام القوات البريطانية في مثل الكبير حتى استشهد ومعه معظم رجاله .
4. نادى بجعل التعليم الابتدائي إجبارياً وبالمجان .
- ب - ما العلاقة بين كل من -
1. مرسوم إبريل ١٨٧٩ م وعزل إسماعيل من حكم مصر .
2. أمير " ونجت " المعتمد لبريطاني " وناسب الوقت المصري .
- ج - بم نطعم
1. كان كبير من أنصار الجلاء عن مصر .
2. مجي حملة فريزر في مصر ١٨٠٧ م .
3. فشل ثورة العرابية .
- د - ما رأيك في -
عُرفت مصر الهيبك شبه ثنابية في عهد الخديو إسماعيل .

انتهت الأسف

المادة، الدراسات الاجتماعية	امتحان (نصف العام)	جمهورية مصر العربية محافظة الإسكندرية مديرية التربية والتعليم
الزمن : ساعتان	شهادة إتمام مرحلة التعليم الأساسي (الصف ١٤) للعام الدراسي (١٤٤٠ هـ - ٢٠١٩ م)	

أجب عن الأسئلة الآتية

اسئلة هذه المادة هي ورقتين

أولا : الجغرافيا

السؤال الأول :

(١) أملك خريطة صماء لقارة أفريقيا ..

اكتب مدلول الأرقام الآتية :

(١) جزيرة

(٢) هضبة

(٣) إقليم مناخ

(٤) السلالة

(ب) - تنوع الأنشطة الاقتصادية بين سكان العالم :

في ضوء العبارة أجب عن الأسئلة الآتية :

(١) ما المقصود بالسلالة الشربة ؟

(٢) إلى أي مستويات الدخل تنتمي الدول الآتية (المكسيك - باكستان) .

(٣) برهن على وجود علاقة بين معدل الزيادة الطبيعية و التقدم .

(٤) ماذا يحدث إذا ... ؟ فلت نة فنة صفار السن في مصر .

(ج) صوب ما تحته خط :

(١) أعلى قمة جبلية في العالم تعرف بـ زاجروس .

(٢) تكثر الهضاب شرق جبال الإنديز مثل هضبة ليرادور في الجنوب .

(٣) يقع الإقليم اللورانس في نفس عروض مناخ البحر المتوسط .

(٤) يقل السكان في شبه الجزيرة العربية لوجوهة السطح .

سؤال الثاني :

اختر الإجابة الصحيحة مما بين القوسين :

(١) يفصل بحر القارة الأوقيانوسية عن جزر أندونيسيا (مرسرة - فزون - أرافورا - المرجان)

(٢) سكان غرب و وسط أوروبا ضمن (المجموعة الآلية - المجموعة النوردية - الإسكيمو - البانتو)

(٣) البلوط من أشجار غابات الإقليم (النفضي - الصيني - المداري - التندرا)

(٤) يتركز السكان في سهول البامباس بدولة (البرازيل - كندا - فنزويلا - الأرجنتين)

بم نفسه :

(١) ضيق السهول الساحلية غرب أمريكا الجنوبية .

(٢) تركيز السكان في منطقة البحيرات العظمى .

(٣) أهمية السهل الأوربي العظيم .

(٤) انخفاض معدل تعليم الإناث في بعض المجتمعات .

(قارن في جدول بين الإقليم الموسمي - الاستوائي : من حيث

(١) الخصائص المناخية . (٢) ذكر مثال لكل منهما في قارة آسيا .

﴿ بقية الأسئلة في الورقة الثانية ﴾

ثانياً : التاريخ

السؤال الثالث :

(أ) امكثب كل كلمة (صواب) أمام العبارة الصحيحة وسكلمة (خطأ) أمام العبارة الغير صحيحة (مع التصحيح)

- (١) انتهى الصدام بين الدولة الصفوية و العثمانية بانتصار سليم الأول .
- (٢) وضع مينو خطة إصلاح اقتصادية و قضائية لمصر .
- (٣) أنشأ الخديو إسماعيل مدينة الخرطوم .
- (٤) ترنّب على الوزارة المختلطة تدخل الأجانب في سلطة القضاء الشرعي .

(ب) ما النتائج المترتبة على :

- (١) مقاومة أبناء الصعيد للقوات الفرنسية .
 - (٢) توتر العلاقة بين (محمد علي) و السلطان العثماني بعد حروب اليونان .
 - (٣) مؤتمر الأستانة .
 - (٤) هزيمة الجيوش المملوكية أمام الدولة العثمانية من الناحية الدينية .
- (ج) ما العلاقة بين سياسة (محمد علي) الاقتصادية و البناء الاجتماعي في مصر .

السؤال الرابع :

(أ) لمن تنسب الأعمال الآتية :

- (١) جعل الخدمة العسكرية سنة إجبارية للجميع .
- (٢) وضع أول دستور في مصر عرف باللائحة الأساسية .
- (٣) جعل التعليم إلزامياً و بالجان في المرحلة الابتدائية .
- (٤) أطلق الحرية للشعب للنضال المسلح ضد القوات البريطانية في القناة .

(ب) دليل تاريخياً على :

- (١) تضمن دستور ١٩٢٣ م بعض المبادئ الإيجابية .
 - (٢) اتبعت بريطانيا سياسة اقتصادية في مصر تحدم مصالحها .
- (ج) أثبت الشعب المصري خلال تاريخه المجيد قدرته على تحقيق (رأده)

في ضوء العبارة أجب عن الأسئلة الآتية :

- (١) تتبع دور الزعامة الشعبية في دعم (محمد علي) .
- (٢) ما مطالب الأمة في مظاهرة عابدين سبتمبر ١٨٨١ م .
- (٣) أسباب رفض الشعب المصري التفاوض مع لجنة ملتر .
- (٤) ما رأيك في (الوحدة الوطنية بين أبناء الأمة في ثورة ١٩١٩) .

﴿ انتهت الأسئلة ﴾

المادة : الدراسات الاجتماعية	امتحان (نصف العام)	جمهورية مصر العربية محافظة الإسكندرية مديرية التربية والتعليم
الزمن : ساعتان	شهادة إتمام مرحلة التعليم الأساسي (العاشر) للعام الدراسي (١٤٤٠هـ - ٢٠١٩م)	

أسئلة هذه المادة في درجتين

أجب عن الأسئلة الآتية
أولا : انضما

١



السؤال الأول:

- (١) أمامك خريطة صماء لقارة إفريقيا ..
اكتب - مذكول الأرقام الآتية:
(١) جزيرة ..
(٢) هضبة ..
(٣) إقليم مناخ ..
(٤) السلالة ..

(ب) - تتنوع الأنشطة الاقتصادية بين سكان العالم:

في ضوء العبارة أجب عن الأسئلة الآتية:

- (١) ما المقصود بالسلالة البشرية ؟
 - (٢) إلى أي مستويات الدخل تنتمي الدول الآتية (المكسيك - باكستان) .
 - (٣) برهن على وجود علاقة بين معدل الزيادة الطبيعية و التقدم .
 - (٤) ماذا يحدث إذا ... ؟ قلت نسبة فنة صغار السن في مصر .
- (ج) صوب ما تحته خط :

- (١) أعلى قمة جبلية في العالم تعرف بـ زاجروس .
- (٢) تكثر المضايق شرق جبال الإنديز مثل هضبة ليرادور في الجنوب .
- (٣) يقع الإقليم اللورانس في نفس عرض مناخ البحر المتوسط .
- (٤) يقطن السكان في شبه الجزيرة العربية لوعورة السطح .

سؤال الثاني:

اختر الإجابة الصحيحة مما بين القوسين:

- (١) بفصل بحر القارة الأوقيانوسية عن جزر أندونيسيا (مرمرة - قزوين - أرافورا - المرز)
- (١) سكان غرب و وسط أوروبا ضمن (المجموعة الألبية - المجموعة النوردية - الإسكيمو - الب)
- (٢) البلوط من أشجار غابات الإقليم (النفضي - الصيني - المداري - ال)
- (٣) يتركز السكان في سهول البعباس بدولة (البرازيل - كندا - فنزويلا - الأرج)

بم تفسر:

- (١) ضيق السهول الساحلية غرب أمريكا الجنوبية .
- (٢) تركيز السكان في منطقة البحيرات العظمى .
- (٣) أهمية السهل الأوربي العظيم .
- (٤) انخفاض معدل تعليم الإناث في بعض المجتمعات .

قارن في جدول بين: الإقليم الموسمي - الاستوائي : من حيث

- (١) الخصائص الناتجة .
- (٢) ذكر مثال لكل منهما في قارة آسيا .

﴿ بقية الأسئلة في الورقة الثانية ﴾

السؤال الثالث :

- أ) ليكتب كلمة (صواب) أمام العبارة الصحيحة وكلمة (خطأ) أمام العبارة الغير صحيحة (مع التصويب) :
- (١) انتهى الصدام بين الدولة الصفوية و العثمانية بانتصار سليم الأول .
 - (٢) وضع ميرو عظمة إصلاح اقتصادية و قضائية لمصر .
 - (٣) أنشأ الخديو إسماعيل مدينة الخرطوم .
 - (٤) ترتب على الوزارة المختلطة تدخل الأجانب في سلطة القضاء التشريعي .

ب) ما النتائج المترتبة على :

- (١) مقاومة أبناء الصعيد للقوات الفرنسية .
 - (٢) توتر العلاقة بين (محمد علي) و السلطان العثماني بعد حروب اليونان .
 - (٣) مؤتمر الأستانة .
 - (٤) هزيمة الجيوش المملوكية أمام الدولة العثمانية من الناحية الدينية .
- ج) ما العلاقة بين سياسة (محمد علي) الاقتصادية و البناء الاجتماعي في مصر :

السؤال الرابع :

أ) ليمن تسبب الأعمال الآتية :

- (١) جعل الخدمة العسكرية سنة إجبارية للجميع .
- (٢) وضع أول دستور في مصر عرف باللائحة الأساسية .
- (٣) جعل التعليم إلزامياً و بالجان في المرحلة الابتدائية .
- (٤) أطلق الحرية للشعب للفضال المسلح ضد القوات البريطانية في القناة .

ب) ادلل تاريخياً على :

- (١) تضمن دستور ١٩٢٣ م بعض المبادئ الإيجابية .
- (٢) اتبعت بريطانيا سياسة اقتصادية في مصر تخدم مصالحها .
- (٣) أثبت الشعب المصري خلال تاريخه المجيد قدرته على تحقيق إرادته (

في ضوء العبارة أجب عن الأسئلة الآتية :

- (١) تبج دور الزعامة الشعبية في دعم (محمد علي) .
- (٢) ما مطالب الأمة في مظاهرة عابدين سبتمبر ١٨٨١ م .
- (٣) أسباب رفض الشعب المصري التفاوض مع لجنة ملتر .
- (٤) ما رأيك في (الوحدة الوطنية بين أبناء الأمة في ثورة ١٩١٩) .

﴿ انتهت الأسئلة ﴾

أجب عن جميع الأسئلة الآتية في ورقة اجابتك

أولا : الجغرافيا :



السؤال الأول :

١ (أ) استنت قرينة صماء للكرة أمريكا الجنوبية :
اكتب في دراسة الإجابة ما تشير إليه الأرقام المولفة عليها :-

- ١ - مدار
- ٢ - تجمد مناخى
- ٣ - المحيط
- ٤ - جبل

ب (ب) بما تفسر ... ٢

- ١ - أهمية عضش العيشة و البحيرات الاستوية .
- ٢ - تنوع الحياة النباتية في إقليم المناخ الجبسى .
- ٣ - تميز نول المناخ العربى بالنقل الاستوى المرتفع .

جـ - اكتب ما تشير إليه كل عبارة من العبارات الآتية:

- ١ - الأرض التى بجزى فيها النهر وروالده او تحدر مياهه اليه ()
- ٢ - سهول صحراوية ورمليه تمتد بين مصر ونهبيا ()
- ٣ - علم دراسة السكان من حيث النمو والتوزيع والتركيب السكسى ()

السؤال الثانى :

١ (أ) اختر الإجابة الصحيحة من بين الأقواس :-

- ١ - بعد البئر البحار المغلقة فى العلم ... (البحر الأحمر - البحر الأسود - بحر قزوين - البحر المتوسط)
 - ٢ - من اشجار الغابات المطروية (الصنوبر - الصنصاف - الزان - العافوجسى)
 - ٣ - السلاطة التى تنتشر فى جميع قارات العلم (الزنجية - المغولية - الإسكندر - الفوقرية)
 - ٤ - من أقل الجهات سكنا فى قارة اوربا (اشمالية - شرقية - الجنوبية - الغربية)
- (ب) قارن بين :-

١ - إقليم المناخ المدارى الحار وإقليم مناخ لحرب اوربا من حيث الخصائص المناخية و النباتية

(ج) فى أى العبارات توجد كل ظاهرة معا يترى:

- ١ - نهرا حرى و دارلنج
- ٢ - جبل الابلانس

((الورقة الثابتة))

تبع امتحان مادة : الدراسات الاجتماعية إتمام الدراسة بمرحلة التعليم الأساسي -
الفصل الدراسي الأول ١٨٠١٨ - ١٩/٢٠١٩

ثانيا : التاريخ :

السؤال الثالث :

(أ) صوب ما تحته خط فيما يلي :

- ١- تزعم السيد عمر مكرم مقاومة الحملة الفرنسية عندما وصلت إلى الاسكندرية
 - ٢- اصدر السنطون العثماني فرماتاً في ١٨٠٥ يتضمن عزل سعيد باشا
 - ٣- ارسلت الحكومة البريطانية بعثة برئاسة اللورد كرومر لاصلاح الازمة المالية لمصر
 - ٤- كان من اسباب الثورة العربية اضطهاد محمود سلسي البارودي للضباط المصريين وعدم ترفيتهم
- (ب) لكل تاريخياً على صحة العبارات الآتية :-
- ١- اندت حروب اليونان إلى ارتفاع مكانة مصر دولياً في عهد محمد علي.
 - ٢- توقفت حركة النهضة التي قام بها محمد علي في عهد عباس باشا الاول .

(ج) بم تفسر الآتي _ ؟

- ١- كساد التجارة الداخلية في مصر اهل العصر العثماني .
- ٢- ارسال بريطانيا لجنة برئاسة اللورد مثر إلى مصر .

السؤال الرابع :

(أ) اكتب اسم الشخصية التي قامت بالاعمال الآتية :

- ١- تمكن من هزيمة الصليبيين في معركة جالد بران ودخل عاصمتهم تبريز
- ٢- سافر سرا إلى فرنسا بعد موقعة ابي قير البحرية بسبب تحالف أوروبا ضد فرنسا
- ٣- اعلن الغاء معاهدة ١٩٣٦ واطل الحربة للشعب للنضال المسلح ضد القوات البريطانية في الفل
- ٤- قام باستقلال حادثة دنشواي للتنديد بالاحتلال البريطاني وسياسته القمعية.

(ب) ما النتائج المترتبة على الآتي ؟

- ١- اللانحة الوطنية في ابريل ١٨٧٩
- ٢- مذبحه ياقا البشرية .

(ج) ما الدروس المستفادة مما يلي :-

- ١- سياسة الاسراف التي اتبعها الخديوي اسماعيل في مصر .
- ٢- اعتماد مصطفى كامل في نضاله ضد الانجليز على القوى الخارجية .

انتهت الأسئلة مع التمتيات بنجاح

أولا الجغرافيسا

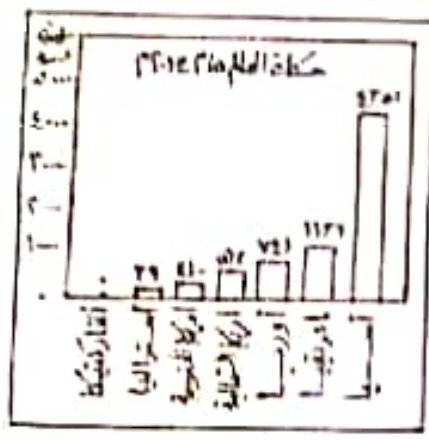
السؤال الأول :



- (أ) اكتب في كراسة الإجابة مدلول الأرقام الموقعة على الخريطة
السماء لقارات العالم القديم التي أمامك . مستعيناً بما يأتي
١- دائرة العرض ٢- البحر المغطى
٣- السهل الفيضى ٤- السلالة البشرية
(ب) في أي القارات تجرى الأنهار الآتية . وأين تصب ؟
١) نهري نجلة و الفرات . ٢) نهر الدانوب .
٣) نهر أورينوكو . ٤) نهري مري ودارلنج .
(ج) بم تفسر ؟

- ١) أعظم السلالات البشرية انتشاراً في العالم السلالة الصفراء المغولية .
٢) لا يوجد في الوقت الحاضر ما يعرف بالسلالة البشرية النقية .
٣) وجود هجرات سكانية غير شرعية تنجّه من دول قارة آسيا .
٤) انخفاض معدل تعليم الإناث في بعض مناطق من دول العالم .

سؤال الثاني



- (أ) أكمل العبارات الآتية مستعيناً بالرسم البياني الذى أمامك
توزيع أعداد السكان على قارات العالم ٢٠١٤ م .

- ١) القارة غير المأهولة بالسكان قارة
أما القارة التي تستأثر بأكبر عدد من السكان قارة
٢) الدولة الأكبر سكاناً في قارة أمريكا الشمالية دولة
أما في قارة أمريكا الجنوبية دولة

(ب) " تنوع الأقاليم المناخية في العالم كما يختلف المناخ داخل القارة الواحدة من منطقة إلى أخرى "

في ضوء هذه العبارة: صنف المناطق الآتية تبعاً للإقليم المناخى الذي تنتمي إليه ، وفترة سقوط الأمطار ؟

- ١- حوض الأمازون . ٢- جزيرة مدغشقر . ٣- ولاية كاليفورنيا . ٤- شمال اليابان .

(ج) أيهما أفضل ؟ ولماذا ؟

- ١) استقامة سواحل القارات المعتلة على البحار والمحيطات أم تعرجها .
٢) سكنى المناطق المرتفعة المسطح في الدول المدارية أم المناطق المنخفضة .
٣) انخفاض نسبة فئة السكان صغار السن في الدول النامية أم ارتفاعها .
٤) الدول التي تعتمد في دخلها القومي على النشاط الزراعي أم النشاط الصناعي .

(١) أكمل العبارات الآتية بكلمات مناسبة ، ثم أعد كتابة العبارة كاملة في كراسة الإجابة :-

- ١- السلطان الذي اتجه في غزواته نحو الشرق مع بداية القرن السادس عشر
- ٢- الطبقة التي ظهرت كقوة اجتماعية مستقرة في عهد محمد علي طبقة
- ٣- وزارة محمود سامي البارودي التي شكلت عام ١٨٨٢م أطلق عليها وزارة
- ٤- الامتيازات الأجنبية في مصر ألغيت عام ١٩٣٧م وفقاً لمؤتمر

(ب) بم تفسر

- ١- نهاية دولة المماليك عام ١٥١٧م .
- ٢- حروب محمد علي في الجزيرة العربية .
- ٣- اعتماد الخديو اسماعيل في علاقته بالسلطان على تقديم المال والهدايا .
- ٤- توسع سلطة الإحتلال في زراعة القطن المصري .

(ج) دلل تاريخياً على صحة العبارات الآتية :-

- ١) نجاح الإرادة الشعبية في تغيير المشهد السياسي بمصر عام ١٨٠٥م .
- ٢) ازدهار النهضة العنمية والثقافية في عهد الخديو اسماعيل .
- ٣) فشل الإنجليز في دخول القاهرة عن طريق كمر الدوار عام ١٨٨٢م .
- ٤) استقالة سعد زغلول عام ١٩٢٤م احتجاجاً على التدخل الأجنبي في شئون البلاد .

السؤال الرابع :

(١) لمن تنسب الأعمال التاريخية الآتية :-

- ١- تحالف مع الشيخ ظاهر العمر وأخضع الحجاز لنفوذه .
- ٢- تم في عهده إصلاح الطريق البري بين القاهرة والسويس .
- ٣- استغل حادثة دنشواي للتنديد بسياسة الإحتلال البريطاني .
- ٤- قام بإلغاء معاهدة عام ١٩٣٦م في أكتوبر عام ١٩٥١م .

(ب) ما النتائج التي ترتبت علي

- ١) جمود وركود الحكم العثماني .
- ٢) معركة امبابية عام ١٧٩٨م .
- ٣) إدراك الدول الأوروبية خطورة " محمد علي " على التوازن الدولي .
- ٤) إقصاء الوزيرين الأجبيين عن الوزارة في عهد الخديو اسماعيل عام ١٧٨٩م .

(ج) ما العلاقة بين كل من :

- ١- مجيء الحملة الفرنسية على مصر والشام والتنافس الاستعماري .
- ٢- الأزمة العالمية عام ١٨٧٥م والإحتلال البريطاني لمصر عام ١٨٨٢م .

الورقة رقم (١)

(أسئلة هذا الامتحان في ورقتين)

أجب عن جميع الأسئلة الآتية في دراسة لاجبت
زيادة النمو الديمغرافي



السؤال الأول:

(أ) أمامك خريطة صماء للعالم .

اكتب مدلول الأرقام الموقعة عليها :

١- جزر ٢- جبال

٣- المناخ ٤- المحيط

(ب) أكمل العبارات التالية بما يناسبها من كلمات:

١- يفصل قارة آسيا عن قارة أوروبا جبال

٢- جبال أطلس تحصر بينها هضبة

٣- ينتمي لينود الخمر في الأمريكتين إلى سلالة

٤- أكبر دول قارة أمريكا الجنوبية سكاناً دولة

(ج) قارن بين قارة أوروبا وقارة أستراليا من حيث :

١- الموقع الجغرافي لكل منهما .

٢- السهول الساحلية في كل منهما .

السؤال الثاني: (أ) بم تفسر

١- جودة التربة في السهل الأوربي العظيم .

٢- تنفض الغابات النفضية أوراقها في فصل الشتاء .

٣- بعض الزوج التي تسكن غابات حوض الكونغو وصحراء كلهاري تُعرف بالسلالة النقية .

٤- تركز السكان في الساحل الشمالي الشرقي للولايات المتحدة الأمريكية بقارة أمريكا الشمالية .

(ب) ما المقصود بالمفاهيم الجغرافية الآتية ؟

١- إقليم مناخي .

٢- التركيب العمري .

(ج) صنف الدول الآتية من حيث الرعاية الطبية :

١- إثيوبيا .

٢- روسيا .

٣- الإمارات .

(د) دلل على صحة العبارات التالية :

"زيادة السكان في معظم دول قارة آسيا أدى إلى مشكلات عديدة"

ثانياً: التاريخ

السؤال الثالث: (أ) اكتب كلمة (صواب) أمام العبارة الصحيحة وكلمة (خطأ) أمام العبارة الخاطئة مما يأتي:

- ١- عاشت مصر في ظل الحكم العثماني حياة اجتماعية متوازنة.
 - ٢- حققت الحملة الفرنسية أهدافها الاستعمارية في مصر.
 - ٣- الاهتمام بالجيش كان محور سياسة محمد علي الإصلاحية.
 - ٤- المحاكم المختلفة لم تحقق الأهداف التي أنشئت من أجلها.
- (ب) ما النتائج المترتبة على ..؟
- ١- التفوق الحضاري والعسكري للدول الأوروبية على العثمانيين أوائل القرن ١٦.
 - ٢- تفاوض محمد علي مع الدول الأوروبية ١٨٢٨م لإنهاء الحرب في اليونان.
 - ٣- صدور تصريح ٢٨ فبراير على الصعيد الخارجي.
 - ٤- إلغاء مصطفى النحاس لمعاهدة ١٩٣٦م في أكتوبر ١٩٥١م.
- (ج) ما العلاقة بين كل مما يأتي
- ١- الحملة الفرنسية ١٨٧٨م والاحتلال البريطاني لمصر ١٨٨٢م.
 - ٢- الاتفاق الودي ١٩٠٤م وكفاح مصطفى كامل ضد الاحتلال.

السؤال الرابع: (أ) أعد كتابة العبارات الآتية في كراسة إجابتك بعد تصويب ما فوق الخط.

- ١- لإخضاع الحجاز لنفوذه تحالف على بك الكبير مع محمد أبو الذهب.
- ٢- في الصراع على السلطة عقب خروج الفرنسيون انحاز محمد علي للإنجليز.
- ٣- أصبح حكم مصر وراثياً في أكبر أبناء محمد علي الذكور سناً بموجب تسوية لندن ١٨٤٠م.
- ٤- بدء المشروع في إنشاء أول خط حديدي بين القاهرة والإسكندرية في عهد إبراهيم باشا.

(ب) أيد بالأثلة التاريخية صحة العبارات الآتية:

- نابليون بونابرت لم يكن وفياً بالعهود في حملته على الشام.
- خضع السلطان العثماني لإرادة المصريين عام ١٨٠٦م.

(ج) " سوء الأحوال السياسية والاقتصادية كانت دائماً وقود الحركة الوطنية في مواجهة أنظمة الحكم وقوى الاحتلال ". في ضوء العبارة وضح ما يأتي:

- ١- أذكر أهم التطورات الدستورية في عهد إسماعيل وموقف الدول الأوروبية منها.
- ٢- وضح وجه الاختلاف بين اللانحة الأساسية في ديسمبر ١٨٨١م وفبراير ١٨٨٢م.
- ٣- ما أهم ملامح السياسة الاقتصادية لمصر تحت الاحتلال البريطاني.
- ٤- ما رأيك في ...؟ موقف الشعب المصري من لجنة ملنر ديسمبر ١٩١٩م.



(أ) اكتب في عرسة الإجابة مدلول الأرقام الموقعة على الخريطة

الصماء لقارات العالم القديم التي أمامك . مستعيماً بما يأتي :
 ١- دائرة العرض ٢- البحر المتعلق

٣- السهل الفيضي ٤- السلالة البشرية

(ب) في أي القارات تجري الأنهار الآتية ، وأين تصب ؟
 (١) نهري نجلة و الفرات . (٢) نهر الدانوب .
 (٣) نهر أورينوكو . (٤) نهري مري و دارالنج .

(ج) بم تفسر

- (١) أعظم السلالات البشرية انتشاراً في العالم السلالة الصفراء المغولية .
- (٢) لا يوجد في الوقت الحاضر ما يعرف بالسلالة البشرية النقية .
- (٣) وجود هجرات سكانية غير شرعية تتجه من دول قارة آسيا .
- (٤) انخفاض معدل تعليم الإناث في بعض مناطق من دول العالم .

السؤال الثاني :

(أ) أكمل العبارات الآتية مستعيماً بالرسم البياني الذي أمامك
 لتوزيع أعداد السكان على قارات العالم ٢٠١٤ م .



(١) القارة غير المأهولة بالسكان قارة
 أما القارة التي تستأثر بأكثر عدد من السكان قارة

(٢) الدولة الأكبر سكاناً في قارة أمريكا الشمالية دولة
 أما في قارة أمريكا الجنوبية دولة

(ب) " تنوع الأقاليم المناخية في العالم كما يختلف المناخ داخل القارة الواحدة من منطقة إلى أخرى "

في ضوء هذه العبارة: صنف المناطق الآتية تبعاً للإقليم المناخي الذي تنتمي إليه ، وفترة سقوط

١- حوض الأمازون . ٢- جزيرة مدغشقر . ٣- ولاية كاليفورنيا . ٤- شم

(ج) أيهما أفضل ؟ ولماذا ؟

- (١) استقامة سواحل القارات المطلة على البحار و المحيطات أم تعرجها .
- (٢) سكني المناطق المرتفعة السطح في الدول المدارية أم المناطق المنخفضة .
- (٣) انخفاض نسبة فنة السكان صغار السن في الدول النامية أم ارتفاعها .
- (٤) الدول التي تعتمد في دخلها القومي على النشاط الزراعي أم النشاط الصناعي .

(٢) أكمل العبارات الآتية بعلامات مناسبة ، ثم أعد كتابة العبارة كاملة في كراسة الإجابة :-

- ١- السلطان اندو: انه في غزواته نحو الشرق مع بداية القرن الثامن عشر
- ٢- الطبقة النثر: ظهرت نتيجة اجتماعية مستقلة في عهد محمد علي ضيقة
- ٣- وزارة محمود: ساسي البارودي التي شكلت عام ١٨٨٢م اطلق عليها وزارة
- ٤- الامتيازات الأجنبية في مصر ألغيت عام ١٩٣٧م وفقا لمؤتمر

(ب) بمصر

- ١- نهاية دولة المماليك عام ١٥١٧م .
- ٢- حروب محمد علي في الجزيرة العربية .
- ٣- اعتمد الخديو اسماعيل في علاقته بالسلطان علي تقديم المال والهدايا .
- ٤- توسع سلطة الاحتلال في زراعة القطن المصري .

(ج) دلت تاريخياً على صحة العبارات الآتية :-

- ١) نجاح الإرادة الشعبية في تغيير المشهد السياسي بمصر عام ١٨٠٥م .
- ٢) ازدهار النهضة العلمية والثقافية في عهد الخديو اسماعيل .
- ٣) فشل الإنجليز في دخول القاهرة عن طريق كمر اندوار عام ١٨٨٢م .
- ٤) استقالة سعد زغلول عام ١٩٢٤م احتجاجاً على التدخل الأجنبي في شؤون البلاد .

(١) لمن تنسب الأعمال التاريخية الآتية :-

- ١- تحالف مع الشيخ ظاهر العمر وأخضع الحجاز لنفوذه .
- ٢- تم في عهده إصلاح الطريق البري بين القاهرة والسويس .
- ٣- استغل حادثة دنشواي للتنديد بسياسة الاحتلال البريطاني .
- ٤- قام بإلغاء معاهدة عام ١٩٣٦م في أكتوبر عام ١٩٥١م .

(ب) ما النتائج التي ترتبت علي؟

- ١- جمود وركود الحكم العثماني .
- ٢) معركة امبابة عام ١٧٩٨م .
- ٣) إدراك الدول الأوروبية خطورة " محمد علي " على التوازن الدولي .
- ٤) إقصاء الوزراء الأجانب عن الوزارة في عهد الخديو اسماعيل عام ١٧٨٩م .

(ج) ما العلاقة بين كل من :

- ١- مجرى الحملة الفرنسية على مصر والشام والتطويع الاستعماري .
- ٢- الأزمة المالية عام ١٨٧٥م والإحتلال البريطاني لمصر عام ١٨٨٢م .